

# PROCESSO SELETIVO SIMPLIFICADO

## Edital 01/2017



## PREFEITURA MUNICIPAL DE

# UNIÃO DE MINAS

“Semeando o progresso da nossa cidade”  
Administração 2017/2020

### CADERNO DE PROVAS

**CADERNO ÚNICO**

**Empregos Públicos:**

- Agente Comunitário de Saúde;
- Agente de Combate às Endemias.

**PROVAS:**

- Português;
- Matemática;
- Conhecimentos Gerais;
- Informática Básica;
- Conhecimentos Específicos.

**Leia, atentamente, as instruções gerais que se encontram no verso desta capa.**

## INSTRUÇÕES GERAIS:

1. Este caderno de provas contém um total de **40 (quarenta) questões** objetivas, sendo 10 de Português, 05 de Matemática, 05 de Conhecimentos Gerais, 05 de Informática Básica e 15 de Conhecimentos Específicos. Confira-o.
2. Esta prova terá a **duração** de, no **mínimo, 1 (uma) hora** e, no **máximo, 3 (três) horas**, incluído o tempo destinado à transcrição de suas respostas no gabarito oficial.
3. Respondidas as questões, você deverá passar o gabarito para a sua folha de respostas, usando **caneta** esferográfica **azul** ou **preta**.
4. Em **nenhuma hipótese** haverá **substituição** da Folha de Respostas por erro do candidato.
5. Este **caderno** deverá ser **devolvido** ao **fiscal**, juntamente, com a folha de respostas, devidamente preenchidos e assinados.
6. **Você pode transcrever suas respostas na última folha deste caderno e a mesma poderá ser destacada.**
7. Os **gabaritos oficiais** das Provas Objetivas de Múltipla Escolha serão publicados no Quadro Oficial de Avisos da Prefeitura Municipal de União de Minas/MG e divulgados no endereço eletrônico **<http://www.uniaodeminas.mg.gov.br>**, no dia 05 de dezembro de 2017.
8. **A comissão organizadora do Processo Seletivo Simplificado da Prefeitura Municipal de União de Minas/MG lhe deseja uma boa prova.**

Prezado(a) candidato(a):

Coloque seu número de inscrição e nome nos quadros abaixo:

Nº de Inscrição:	Nome:
<input type="text"/>	<input type="text"/>

**ASSINALE A RESPOSTA CORRETA.**

## **PROVA DE PORTUGUÊS**

### **Leitura Informal & Rendimento Escolar**

Pesquisa realizada pelo Colégio Atual (Recife/PE) em parceria com a Vade Mecum Consultoria, como parte do programa de otimização educacional, constatou estatisticamente uma contribuição substancial da leitura informal no rendimento escolar dos alunos.

A leitura informal (livros não didáticos, jornais, revistas etc.) tem influência positiva tanto nas disciplinas de Comunicação e Estudos Sociais, quanto em matérias lógicas e científicas. O tempo ideal de leitura informal seria de, pelo menos, uma hora diária, sete dias por semana.

Ler é Aprender!

Ribeiro, Lair. Como passar no vestibular: use a cabeça e vença o desafio.  
Rio de Janeiro: Objetiva, 1997.

### **QUESTÃO 01**

Os termos destacados estão corretamente interpretados entre parênteses, **EXCETO** em:

- (A) “[...] em **parceria** com a Vade Mecum Consultoria, [...]” (associação)
- (B) “[...] como parte do programa de **otimização** educacional, [...]” (degeneração)
- (C) “[...] tem **influência** positiva [...]” (ação)
- (D) “[...] O tempo **ideal** de leitura informal seria de [...]” (adequado)

## QUESTÃO 02

Segundo o texto, ler livros não didáticos, jornais, revistas etc.

- (A) é importante para o desenvolvimento escolar dos alunos;
- (B) atrapalha na preparação dos alunos que pretendem prestar vestibular;
- (C) só foi importante para os alunos do Colégio Atual (Recife/PE), pois a pesquisa não pode ser levada em conta para outros locais;
- (D) tem influência positiva nas disciplinas de Comunicação e Estudos Sociais, mas atrapalha o estudo das matérias lógicas e científicas.

## QUESTÃO 03

Todas as palavras são proparoxítonas, **EXCETO**:

- (A) didáticos
- (B) lógicas
- (C) disciplinas
- (D) científicas

## QUESTÃO 04

A alternativa cuja palavra destacada é um verbo é:

- (A) “[...], **constatou** estatisticamente uma contribuição substancial da leitura informal no rendimento escolar dos alunos. [...]”
- (B) “[...] A leitura informal (livros **não** didáticos, jornais, revistas etc.) [...]”
- (C) “[...] O **tempo** ideal de leitura informal seria de, pelo menos, uma hora diária, sete dias por semana. [...]”
- (D) Como passar no **vestibular**: use a cabeça e vença o desafio.

## HISTÓRIAS EM QUADRINHOS: DISCURSO E LEITURA

**Você sabia que as histórias em quadrinhos já foram vítimas de grande preconceito e até proibidas em muitas escolas?**

Essa história aconteceu comigo quando eu estava (...) na 5ª série. Morava em Alegrete (RS) e estudava no Colégio Estadual Oswaldo Aranha. Sempre fui uma aluna aplicada e na maioria das vezes terminava as

atividades antes dos meus colegas. Naquele tempo, conversar em sala de aula era extremamente proibido, então levava um livro para passar o tempo até que todos terminassem. Um dia levei um gibi. Quando a professora percebeu que não era um livro e sim uma História em Quadrinhos... Sabe o que aconteceu? Levei a maior bronca e o que é pior, na frente de todos os meus colegas. Naquele momento fiquei com muita vergonha e sem entender bem o que estava fazendo de tão errado. Na secretaria, a coordenadora fez um sermão (que eu não entendi quase nada) sobre o prejuízo que aquele tipo de leitura fazia ao cérebro das crianças. Ela finalizou dizendo que eu só não iria assinar o “Livro Preto” porque minhas notas eram boas. Ufa!!!

Weber, Rosi Portugal Penna. Leitura e produção de Histórias em Quadrinhos. Disponível em:

<<http://www.diaadiaeducacao.pr.gov.br/portals/pde/arquivos/906-2.pdf>>.

Acesso em: 06/11/2017.

### **QUESTÃO 05**

Considerando a leitura dos dois textos acima, pode-se observar nitidamente uma situação de:

- (A) coerência;
- (B) concordância;
- (C) igualdade;
- (D) contradição.

### **QUESTÃO 06**

A autora nos relata que quando estudava, “levava um livro para passar o tempo”. Ela fazia isso porque:

- (A) não gostava das aulas e preferia estudar sozinha;
- (B) terminava as atividades antes dos colegas e não podia conversar;
- (C) naquela época os piores alunos eram proibidos de conversar e eram “castigados” com leituras informais;
- (D) eram boa aluna e, como prêmio pelas suas boas notas, a professora a deixavam ler durante as aulas.

**QUESTÃO 07**

No final da narrativa a autora nos contou que não assinou a livro preto, pois a coordenadora

- (A) conhecia seu pai e levou isso em consideração;
- (B) não encontrou o livro no momento para que ela o assinasse;
- (C) havia feito um sermão e isso já havia sido o suficiente;
- (D) falou que suas notas eram boas.

**QUESTÃO 08**

No trecho “Sabe o que aconteceu? Levei a maior bronca e o que é pior, na frente de todos os meus colegas. Naquele momento fiquei **com muita vergonha** e sem entender bem o que estava fazendo de tão errado.”, a expressão destacada pode ser substituída, sem alteração de sentido, **EXCETO** por:

- (A) constrangida;
- (B) vexada;
- (C) orgulhosa;
- (D) embaraçada.

**QUESTÃO 09**

Há ERRO de ortografia em:

- (A) prazer
- (B) afazer
- (C) infernisar
- (D) defesa

**QUESTÃO 10**

A divisão silábica está correta, **EXCETO** em:

- (A) as – sas – si – no
- (B) U – ru – gua – i
- (C) ex – ce – ção
- (D) ba – lai – o

**PROVA DE MATEMÁTICA****QUESTÃO 11**

Recentemente, em União de Minas, o termômetro marcou  $20^\circ$  pela manhã. Se a temperatura a tarde subir mais 20% do valor inicial, o termômetro vai marcar:

- (A)  $21^\circ$
- (B)  $22^\circ$
- (C)  $23^\circ$
- (D)  $24^\circ$

**QUESTÃO 12**

A idade de Maria é 30 anos e a idade de João é 60 anos. Qual é a razão entre as idades de João e Maria?

- (A) 2
- (B)  $1/2$
- (C)  $1/30$
- (D)  $1/60$

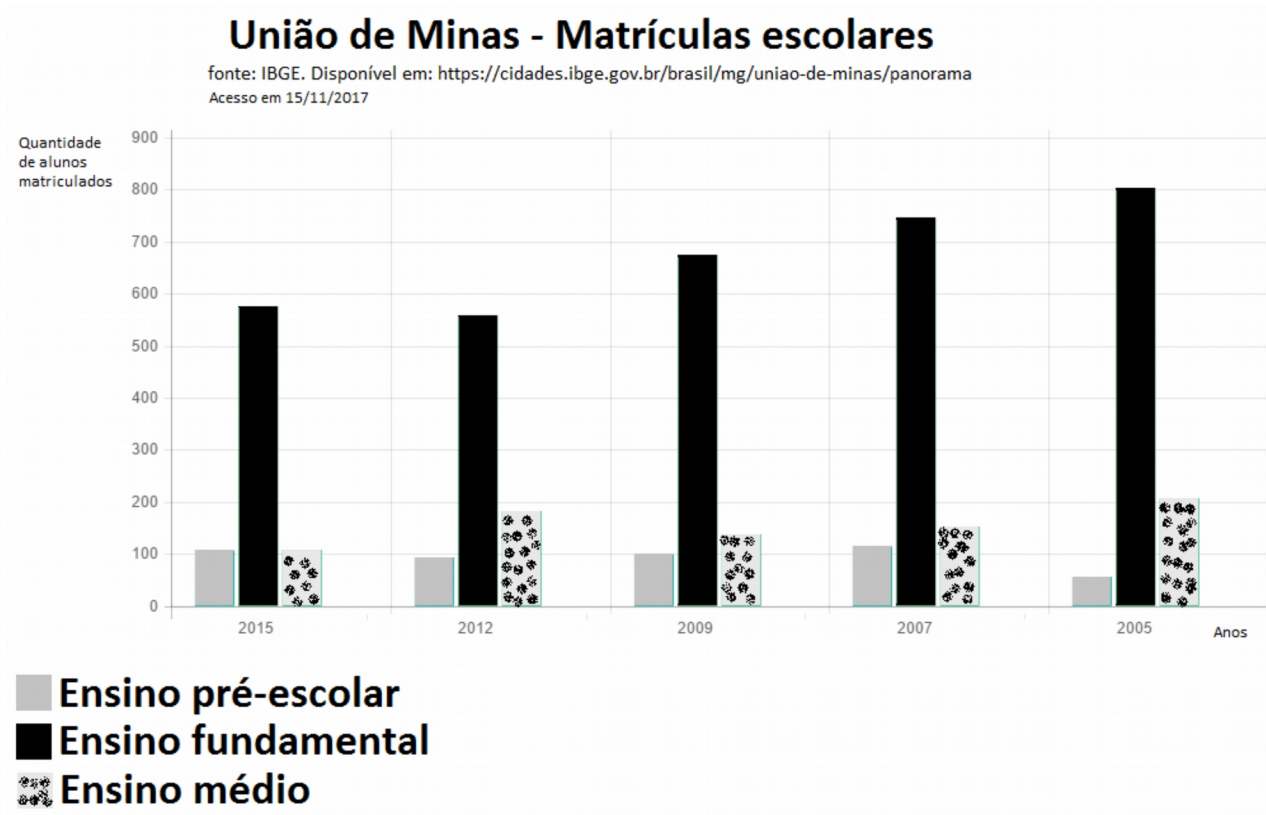
**QUESTÃO 13**

Um pedreiro, trabalhando 8 horas por dia, durante 10 dias, assenta 16.000 tijolos. Quantas horas por dia deve trabalhar esse pedreiro para que ele possa assentar 18.000 tijolos no mesmo período?

- (A) 10 horas
- (B) 11 horas
- (C) 08 horas
- (D) 09 horas

## QUESTÃO 14

Analisando o gráfico abaixo, é possível concluir que:

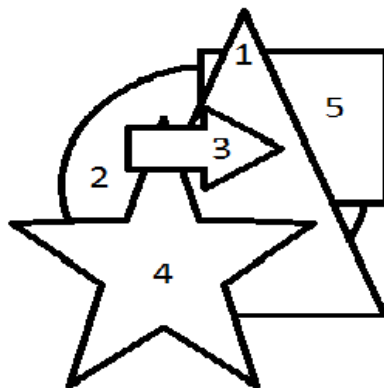


- (A) Em União de Minas, ao longo dos últimos dez anos, nota-se que tem aumentado a quantidade de estudantes matriculados no ensino fundamental;  
 (B) Mais de 1000 alunos estavam matriculados em 2005;  
 (C) A minoria dos estudantes matriculados em União de Minas concentram-se no ensino fundamental;  
 (D) Em 2015, as matrículas dos estudantes representados no gráfico para esse ano totalizaram 900 alunos.

## QUESTÃO 15

Assinale a alternativa que apresenta a ordem em que as 5 figuras numeradas abaixo foram colocadas.

- (A) 2, 5, 1, 4, 3  
 (B) 3, 4, 1, 2, 5  
 (C) 1, 2, 3, 4, 5  
 (D) 5, 4, 3, 2, 1





## **PROVA DE CONHECIMENTOS GERAIS**

### **QUESTÃO 16**

Este ano União de Minas foi contemplada com diversos eventos importantes, dentre os quais se destacou o aniversário da cidade, que foi comemorado na data de:

- ( A ) 25 de fevereiro;
- ( B ) 07 de setembro;
- ( C ) 22 de outubro;
- ( D ) 02 de novembro.

### **QUESTÃO 17**

A Lei nº 10.097, de 19 de dezembro de 2000 trata do trabalho do menor.

Com o intuito de proteger a criança e o adolescente, essa lei só permite trabalho infantil na condição de menor aprendiz.

Assinale a alternativa que completa a frase: o art. 403 trata da proibição de qualquer trabalho a menores de dezesseis anos de idade, salvo na condição de aprendiz, a partir dos ...

- ( A ) treze anos;
- ( B ) quatorze anos;
- ( C ) quinze anos;
- ( D ) dezesseis anos.

### **QUESTÃO 18**

União de Minas, localizada no Estado de Minas Gerais, tem os seguintes municípios limítrofes, **EXCETO**:

- ( A ) Iturama;
- ( B ) Limeira do Oeste;
- ( C ) Santa Vitória;
- ( D ) Carneirinho.

**QUESTÃO 19**

Segundo dados do TRE MG – Tribunal Regional Eleitoral de Minas Gerais, até 15 de novembro de 2017, no Estado, 80 municípios já passaram pela revisão biométrica e possuem todo o eleitorado cadastrado biometricamente, incluindo-se nesta lista o município de União de Minas.

Nesse sentido, assinale a única alternativa que **NÃO** pode ser considerada como um sistema de leitura biométrica:

- (A) Identificação por DNA;
- (B) Impressão digital;
- (C) Reconhecimento da assinatura;
- (D) Identificação pela íris.

**QUESTÃO 20**

*Aedes* (*Stegomyia*) *aegypti* (aêdês do grego ἀηδής: "odioso" e *ægypti* do latim, significando "do Egito") é a nomenclatura taxonômica para o mosquito que é popularmente conhecido como mosquito-da-dengue ou pernilongo-rajado, uma espécie de mosquito da família Culicidae proveniente da África, atualmente distribuído por quase todo o mundo, especialmente em regiões tropicais e subtropicais, sendo dependente da concentração humana no local para se estabelecer.

As fêmeas, para realizar a hematofagia, podem percorrer até 2 500 metros. É considerado vetor de doenças graves.

Assinale a alternativa cuja doença **NÃO** é transmitida pelo *Aedes aegypti*.

- (A) febre zika;
- (B) dengue;
- (C) malária;
- (D) chikungunya.

## **PROVA DE INFORMÁTICA BÁSICA**

### **QUESTÃO 21**

Os dispositivos de entrada e saída (E/S) são também conhecidos por periféricos. Esses equipamentos permitem a comunicação do computador com o mundo exterior, possibilitando a entrada e/ou a saída de dados.

Baseado nestes conceitos, assinale a alternativa que apresenta um dispositivo de saída:

- (A) Monitor;
- (B) Mouse;
- (C) Teclado;
- (D) Escaner.

### **QUESTÃO 22**

Uma importante característica de um endereço de correio eletrônico é a utilização do sinal de @ em seu corpo para separar os nomes do usuário e do provedor. Desta forma pode ser considerado um endereço eletrônico válido:

- (A) <http://@email>
- (B) 1234@5897
- (C) [gabinetedoprefeito@uniaodeminas.mg.gov.br](mailto:gabinetedoprefeito@uniaodeminas.mg.gov.br)
- (D) uniaodeminas.mg.gov.br@prefeito

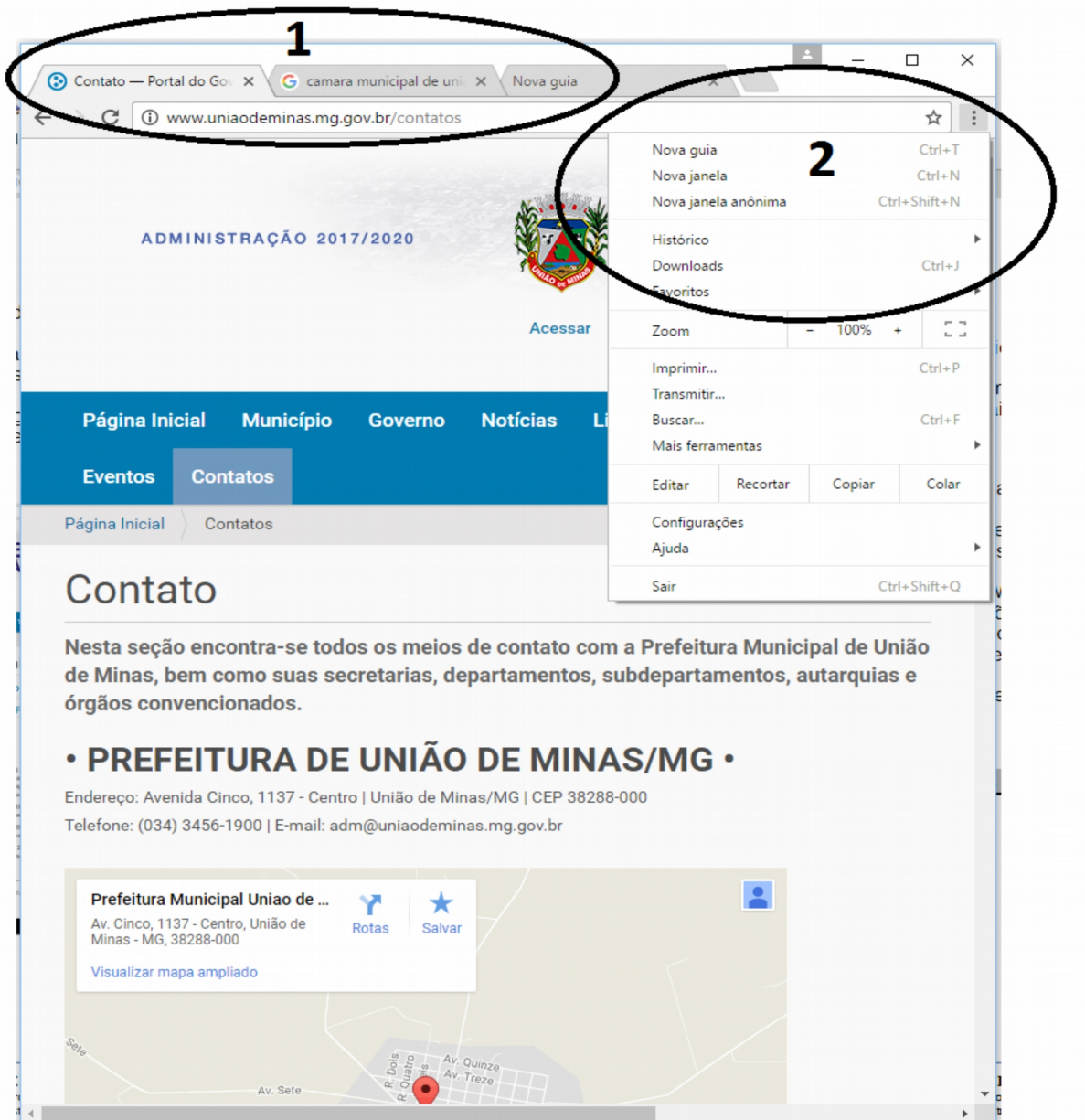
## QUESTÃO 23

A figura abaixo ilustra uma tela do navegador Google Chrome, acessando a página do Portal da Prefeitura.

No destaque 1 é possível também observar que em segundo plano há mais duas guias abertas.

Já o destaque 2 mostra as opções do modo de personalização e controle do browser. Considerando as informações acima e a figura apresentada, caso um usuário necessite acessar mais uma nova guia, basta clicar

- (A) Ctrl + shift + N;
- (B) Ctrl + N;
- (C) Ctrl + J;
- (D) Ctrl + T.



**QUESTÃO 24**

O Word, conhecido programa componente do pacote Office da Microsoft, tem como principal finalidade a

- (A) criação e edição de planilhas eletrônicas;
- (B) criação e edição de textos;
- (C) criação e edição de apresentações multimídias;
- (D) criação e edição de fotografias digitais;

**QUESTÃO 25**

Avalie as afirmações a seguir e assinale a alternativa em que a sequência de verdadeiro e falso esteja correta.

I - Devido ao seu alto custo, em uma empresa como a Prefeitura Municipal de União de Minas, as ferramentas de Antivírus devem ser instaladas apenas nas principais estações de trabalho;

II - Antivírus é uma função da ferramenta Windows Defender;

III - Os spywares, que são programas espiões, além de capturar informações em um computador, podem dominá-lo e danificar totalmente os periféricos de entrada.

- (A) I – verdadeiro, II – verdadeiro, III – verdadeiro;
- (B) I – falso, II – verdadeiro, III – falso;
- (C) I – verdadeiro, II – falso, III – verdadeiro;
- (D) I – falso, II – falso, III – falso;

**PROVA DE CONHECIMENTOS ESPECÍFICOS****QUESTÃO 26**

De acordo com a Lei nº 11.350, de 5 de outubro de 2006, o Agente de Combate às Endemias (ACE), tem como

- ( A ) atribuição, o exercício de atividades de vigilância, prevenção e controle de situações que ferem o código de defesa do consumidor, desenvolvidas em conformidade com as diretrizes do SUS.
- ( B ) atribuição, o exercício de atividades de vigilância, registro, para fins exclusivos de controle e planejamento das ações de saúde, de nascimentos, óbitos, doenças e outros agravos à saúde.
- ( C ) atribuição, o exercício de atividades de prevenção de doenças e promoção à saúde, mediante ações domiciliares ou comunitárias, individuais ou coletivas, desvinculadas das diretrizes do SUS.
- ( D ) atribuição, o exercício de atividades de vigilância, prevenção e controle de doenças e promoção da saúde, desenvolvidas em conformidade com as diretrizes do SUS.

**QUESTÃO 27**

Assinale a alternativa que melhor identifica a ocorrência de doenças que acometem populações em um espaço característico e limitado, não se espalhando por toda a região, mantendo a incidência relativamente constante. Exemplo: Febre Amarela na Amazônia.

- ( A ) Pandemia
- ( B ) Surto
- ( C ) Endemia
- ( D ) Epidemia

**QUESTÃO 28**

Zika, dengue e chikungunya são doenças transmitidas pelo mesmo mosquito. Para controlar e prevenir a propagação dessas doenças, deve-se:

- ( A ) manter os vasos de flores/plantas secos com areia e realizar a limpeza das calhas.
- ( B ) amassar os recipientes plásticos antes do descarte e guardar garrafas e baldes vazios, virados para cima.
- ( C ) evitar o contato entre pessoas contaminadas e sadias.
- ( D ) guardar pneus velhos em local aberto e manter as lixeiras destampadas.

**QUESTÃO 29**

De acordo com a Lei nº 11.350, de 5 de outubro de 2006, o Agente de Combate às Endemias (ACE), deverá preencher os seguintes requisitos para o exercício da atividade:

- (A) haver concluído o ensino médio;
- (B) possuir pós-graduação em saúde pública;
- (C) possuir habilitação categoria B;
- (D) haver concluído, com aproveitamento, curso introdutório de formação inicial e continuada.

**QUESTÃO 30**

A Síndrome da Imunodeficiência Adquirida, doença também conhecida pela sua sigla internacional, AIDS, é transmitida através do HIV, que significa Vírus da Imunodeficiência Humana. Recebe esse nome, pois destrói o sistema imunológico.

A respeito dessa doença, assinale a única alternativa **INCORRETA**:

- (A) Transfusão de sangue não é uma forma de contaminação.
- (B) O diagnóstico da infecção pelo HIV é feito a partir da coleta de sangue.
- (C) Pode ser transmitida da mãe infectada para o filho durante a gestação, o parto ou a amamentação.
- (D) Se caracteriza pelo enfraquecimento do sistema de defesa do corpo e pelo aparecimento das doenças oportunistas.

**QUESTÃO 31**

Segundo o portal uol educação, a ocorrência de uma doença que ultrapassa os limites da nação, espalhando-se por continentes e/ou pelo mundo inteiro, caracteriza-se em uma escala de gravidade, como o pior dos cenários em termos de disseminação de doenças. É o caso da Aids, Tuberculose e peste.

Assinale a alternativa que melhor representa esse cenário:

- (A) Endemia
- (B) Epidemia
- (C) Pandemia
- (D) Surto

**QUESTÃO 32**

Uma grande conquista da sociedade brasileira foi o Estatuto do Idoso, que regula os direitos assegurados às pessoas com idade igual ou superior a 60 anos.

Em seu artigo 3º, §1º, destaca diversas garantias de prioridade aos idosos.

Assinale a única alternativa cujo texto NÃO está de acordo com o Estatuto:

- (A) garantia de acesso à rede de serviços de saúde e de assistência social locais.
- (B) bloqueio automático dos recursos públicos destinados às áreas relacionadas com a proteção ao idoso;
- (C) preferência na formulação e na execução de políticas sociais públicas específicas;
- (D) atendimento preferencial imediato e individualizado junto aos órgãos públicos e privados prestadores de serviços à população;

**QUESTÃO 33**

É sabido que cães de rua causam diversos problemas de saúde pública e segurança.

Assinale o item abaixo que **NÃO** está relacionado a essa situação:

- (A) acidentes de trânsito.
- (B) transmissão de doenças para humanos.
- (C) ferimentos causados por comportamento agressivo.
- (D) transtornos mentais.

**QUESTÃO 34**

O artigo 198 da Constituição Federal, reza que as ações e serviços públicos de saúde integram uma rede regionalizada e hierarquizada e constituem um sistema único, organizado de acordo com três diretrizes. Assinale a única alternativa que não representa uma dessas diretrizes:

- (A) participação da rede hospitalar privada de forma gratuita;
- (B) participação da comunidade;
- (C) atendimento integral, com prioridade para as atividades preventivas, sem prejuízo dos serviços assistenciais;
- (D) descentralização, com direção única em cada esfera de governo.



**QUESTÃO 35**

Das doenças abaixo, todas são de notificação compulsória, mas somente uma é de notificação imediata. Assinale a alternativa que corresponde à doença de notificação imediata.

- (A) Hanseníase
- (B) Esquistossomose
- (C) Raiva Humana
- (D) Dengue

**QUESTÃO 36**

A respeito do SUS – Sistema Único de Saúde, é correto afirmar:

- (A) A iniciativa privada não pode participar de forma alguma.
- (B) É mantido pelo Poder Público.
- (C) Apesar de sua importância não tem nenhum respaldo constitucional.
- (D) Está vinculado diretamente ao Ministério do Planejamento.

**QUESTÃO 37**

A respeito do ciclo de vida do vetor da dengue, **NÃO** está correta a alternativa:

- (A) Na fase da pupa, ocorre a transformação da larva em mosquito adulto.
- (B) Do ovo à forma adulta, o ciclo de vida do *A. aegypti* dura em média 10 meses.
- (C) Os ovos são depositados pela fêmea em ambientes escuros, úmidos e na superfície da água.
- (D) Os ovos são brancos inicialmente, mas rapidamente adquirem a cor negra brilhante.

**QUESTÃO 38**

Compete ao sistema único de saúde, além de outras atribuições, nos termos da lei:

( ) - controlar e fiscalizar procedimentos, produtos e substâncias de interesse para a saúde e participar da produção de medicamentos, equipamentos, imunobiológicos, hemoderivados e outros insumos;

( ) - executar as ações de vigilância sanitária e epidemiológica, excetuando-se as ações de saúde do trabalhador;

( ) - ordenar a formação de recursos humanos na área de saúde;

( ) - participar da formulação da política e da execução das ações de saneamento básico;

( ) - fiscalizar e inspecionar alimentos, compreendido o controle de seu teor nutricional, bem como bebidas e águas para consumo de animais domésticos;

( ) - colaborar na proteção do meio ambiente.

Marque V para verdadeiro e F para falso, e assinale a alternativa cuja sequência está correta:

- (A) V, F, V, V, F, V;
- (B) V, F, V, V, F, F;
- (C) V, V, V, V, F, V;
- (D) V, F, V, V, V, V.

**QUESTÃO 39**

A caxumba, também chamada de papeira ou parotidite, tem um período de incubação de duas ou três semanas. Altamente contagiosa, é causada pelo vírus Paramyxovírus, transmitido por contato direto com:

- (A) Urina.
- (B) Fezes.
- (C) Transfusão de sangue.
- (D) Gotículas de saliva.

**QUESTÃO 40**

O mosquito da dengue deve ser constantemente combatido. Sobre as fases do desenvolvimento do *Aedes aegypti*, é correto afirmar que:

- (A) As larvas desenvolvem-se em águas poluídas que contêm grande quantidade de matéria orgânica para se alimentarem.
- (B) O mosquito adulto vive durante 24 horas.
- (C) Na fase da larva, ocorre maior vulnerabilidade, permitindo ações de prevenção do mosquito.
- (D) Os ovos não possuem resistência à dessecação.

RASCUNHO

RASCUNHO

RASCUNHO

RASCUNHO

Transcreva aqui as suas respostas, destaque essa folha e leve com você para conferência.

01	A <input type="checkbox"/>	B <input type="checkbox"/>	C <input type="checkbox"/>	D <input type="checkbox"/>
02	A <input type="checkbox"/>	B <input type="checkbox"/>	C <input type="checkbox"/>	D <input type="checkbox"/>
03	A <input type="checkbox"/>	B <input type="checkbox"/>	C <input type="checkbox"/>	D <input type="checkbox"/>
04	A <input type="checkbox"/>	B <input type="checkbox"/>	C <input type="checkbox"/>	D <input type="checkbox"/>
05	A <input type="checkbox"/>	B <input type="checkbox"/>	C <input type="checkbox"/>	D <input type="checkbox"/>
06	A <input type="checkbox"/>	B <input type="checkbox"/>	C <input type="checkbox"/>	D <input type="checkbox"/>
07	A <input type="checkbox"/>	B <input type="checkbox"/>	C <input type="checkbox"/>	D <input type="checkbox"/>
08	A <input type="checkbox"/>	B <input type="checkbox"/>	C <input type="checkbox"/>	D <input type="checkbox"/>
09	A <input type="checkbox"/>	B <input type="checkbox"/>	C <input type="checkbox"/>	D <input type="checkbox"/>
10	A <input type="checkbox"/>	B <input type="checkbox"/>	C <input type="checkbox"/>	D <input type="checkbox"/>

11	A <input type="checkbox"/>	B <input type="checkbox"/>	C <input type="checkbox"/>	D <input type="checkbox"/>
12	A <input type="checkbox"/>	B <input type="checkbox"/>	C <input type="checkbox"/>	D <input type="checkbox"/>
13	A <input type="checkbox"/>	B <input type="checkbox"/>	C <input type="checkbox"/>	D <input type="checkbox"/>
14	A <input type="checkbox"/>	B <input type="checkbox"/>	C <input type="checkbox"/>	D <input type="checkbox"/>
15	A <input type="checkbox"/>	B <input type="checkbox"/>	C <input type="checkbox"/>	D <input type="checkbox"/>
16	A <input type="checkbox"/>	B <input type="checkbox"/>	C <input type="checkbox"/>	D <input type="checkbox"/>
17	A <input type="checkbox"/>	B <input type="checkbox"/>	C <input type="checkbox"/>	D <input type="checkbox"/>
18	A <input type="checkbox"/>	B <input type="checkbox"/>	C <input type="checkbox"/>	D <input type="checkbox"/>
19	A <input type="checkbox"/>	B <input type="checkbox"/>	C <input type="checkbox"/>	D <input type="checkbox"/>
20	A <input type="checkbox"/>	B <input type="checkbox"/>	C <input type="checkbox"/>	D <input type="checkbox"/>

21	A <input type="checkbox"/>	B <input type="checkbox"/>	C <input type="checkbox"/>	D <input type="checkbox"/>
22	A <input type="checkbox"/>	B <input type="checkbox"/>	C <input type="checkbox"/>	D <input type="checkbox"/>
23	A <input type="checkbox"/>	B <input type="checkbox"/>	C <input type="checkbox"/>	D <input type="checkbox"/>
24	A <input type="checkbox"/>	B <input type="checkbox"/>	C <input type="checkbox"/>	D <input type="checkbox"/>
25	A <input type="checkbox"/>	B <input type="checkbox"/>	C <input type="checkbox"/>	D <input type="checkbox"/>
26	A <input type="checkbox"/>	B <input type="checkbox"/>	C <input type="checkbox"/>	D <input type="checkbox"/>
27	A <input type="checkbox"/>	B <input type="checkbox"/>	C <input type="checkbox"/>	D <input type="checkbox"/>
28	A <input type="checkbox"/>	B <input type="checkbox"/>	C <input type="checkbox"/>	D <input type="checkbox"/>
29	A <input type="checkbox"/>	B <input type="checkbox"/>	C <input type="checkbox"/>	D <input type="checkbox"/>
30	A <input type="checkbox"/>	B <input type="checkbox"/>	C <input type="checkbox"/>	D <input type="checkbox"/>

31	A <input type="checkbox"/>	B <input type="checkbox"/>	C <input type="checkbox"/>	D <input type="checkbox"/>
32	A <input type="checkbox"/>	B <input type="checkbox"/>	C <input type="checkbox"/>	D <input type="checkbox"/>
33	A <input type="checkbox"/>	B <input type="checkbox"/>	C <input type="checkbox"/>	D <input type="checkbox"/>
34	A <input type="checkbox"/>	B <input type="checkbox"/>	C <input type="checkbox"/>	D <input type="checkbox"/>
35	A <input type="checkbox"/>	B <input type="checkbox"/>	C <input type="checkbox"/>	D <input type="checkbox"/>
36	A <input type="checkbox"/>	B <input type="checkbox"/>	C <input type="checkbox"/>	D <input type="checkbox"/>
37	A <input type="checkbox"/>	B <input type="checkbox"/>	C <input type="checkbox"/>	D <input type="checkbox"/>
38	A <input type="checkbox"/>	B <input type="checkbox"/>	C <input type="checkbox"/>	D <input type="checkbox"/>
39	A <input type="checkbox"/>	B <input type="checkbox"/>	C <input type="checkbox"/>	D <input type="checkbox"/>
40	A <input type="checkbox"/>	B <input type="checkbox"/>	C <input type="checkbox"/>	D <input type="checkbox"/>